




KOLIK MAJÍ NOHOU?


Kteří živočichové na obrázcích mají 8 nohou, kteří čtyři nohy, kteří jen dvě a kteří žádné? Spoj obrázek se správným počtem puntíků. Koho jsi nezařadil? Proč?




8



4



2



0